

	IME I PREZIME	ŠKOLA

VRIJEME RJEŠAVANJA----->	15 Min.	PLASMAN----->	
--------------------------	---------	---------------	--

## BRZINAC MALI BISTRICI

Redni broj zadatka	Naziv zadatka	Ostvareni broj bodova
1.	Minijature 4x4	n x 5
2.	Minijature 5x5	n x 10
	Bonus bodovi	
UKUPAN BROJ BODOVA		

**BOOKLET 2021.**

Dopunite mrežu brojevima od 1 do 4 tako da se isti broj ne javlja u nijednom retku odnosno stupcu.

			<b>3</b>
		<b>2</b>	
	<b>1</b>		<b>4</b>
<b>3</b>			

Dopunite mrežu brojevima od 1 do 4 tako da se isti broj ne javlja u nijednom retku, stupcu i posebno označenom liku 2x2.

	<b>2</b>		
		<b>1</b>	
<b>4</b>			<b>3</b>

Dopunite mrežu brojevima od 1 do 4 tako da se isti broj ne javlja u nijednom retku, stupcu, posebno označenom liku 2x2 te na obje dijagonale.

<b>2</b>			<b>3</b>
		<b>1</b>	

		<b>3</b>	
<b>2</b>			<b>1</b>
<b>4</b>			
		<b>1</b>	<b>4</b>

<b>4</b>			
			<b>1</b>
		<b>3</b>	
	<b>2</b>		

<b>2</b>			
			<b>4</b>
	<b>3</b>		

Dopunite mrežu brojevima od 1 do 5 tako da se isti broj ne javlja u nijednom retku odnosno stupcu.

		<b>3</b>		<b>4</b>
<b>5</b>		<b>1</b>		
	<b>1</b>			<b>2</b>
<b>2</b>			<b>5</b>	
	<b>4</b>	<b>1</b>		

Dopunite mrežu brojevima od 1 do 5 tako da se isti broj ne javlja u nijednom retku, stupcu i posebno označenom liku.

		<b>5</b>		<b>2</b>
	<b>4</b>	<b>1</b>		
				<b>3</b>
	<b>2</b>		<b>1</b>	

Dopunite mrežu brojevima od 1 do 5 tako da se isti broj ne javlja u nijednom retku, stupcu, posebno označenom liku te na obje dijagonale.

		<b>3</b>		
	<b>2</b>		<b>1</b>	
	<b>3</b>		<b>4</b>	

	IME I PREZIME	ŠKOLA

VRIJEME RJEŠAVANJA----->	45 min.	PLASMAN----->	
--------------------------	---------	---------------	--

## 1. SET KLASIKA MALI BISTRICI

Redni broj zadatka	Naziv zadatka	Ostvareni broj bodova
1.	Sudoku 6 x 6	5 + 5 + 5 + 5 + 5 + 5
2.	Sudoku 6 x 6 dijagonala	10 + 10 + 10
	Bonus bodovi	
UKUPAN BROJ BODOVA		

# BOOKLET 2021.

Dopunite mrežu brojevima od 1 do 6 tako da se isti broj ne javlja u nijednom retku, stupcu i posebno označenom liku 2x3.

	3		2		
		5		6	
4	2				
			3		
					4
		1			5

		2		5	
	3		1		
6			2	4	
	1				
					2
		6	3		

1				2	6
6	4				
				5	2
		3			
	2		1		
	6				3

		3			
			4		1
				2	
	2		6		
3					4
		1		6	

1		6	3		
				5	
	3				
2		5			
		3	6		
5		1			4

3				5	6
		6	4		
				1	3
	2				
	4		5	3	

Dopunite mrežu brojevima od 1 do 6 tako da se isti broj ne javlja u nijednom retku, stupcu, posebno označenom liku 2x3 te na obje dijagonale.

					3
5		4	6		
					5
	1				
		2			

		6			
				1	
			3		
3				4	
2		1			

	1		3		
					5
4					
			2		
		5			
					4

## SUDOKU PRVENSTVO

	IME I PREZIME	ŠKOLA

VRIJEME RJEŠAVANJA----->	30 min.	PLASMAN----->	
--------------------------	---------	---------------	--

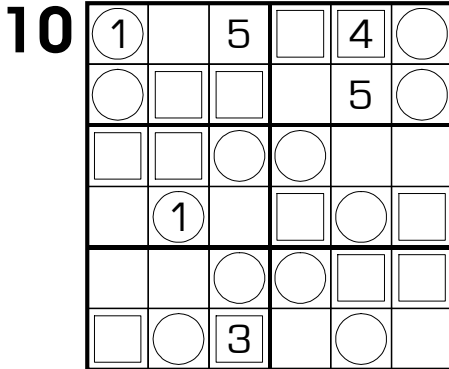
### 2. SET VARIJACIJE MALI BISTRICI

Redni broj zadatka	Naziv zadatka	Ostvareni broj bodova
1.	12-34-56	10
2.	Par - Nepar	10
3.	Susjedni	15 + 15
4.	Suma 5 i 10	20
5.	Kropki	20
	Bonus bodovi	
UKUPAN BROJ BODOVA		

**BOOKLET 2021.**

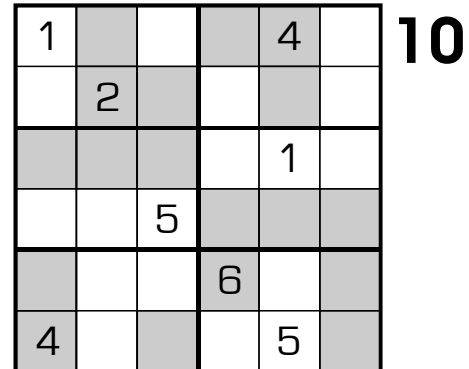
### 12-34-56 SUDOKU

Uz uobičajeno razlikovanje brojeva u svakom retku, stupcu i posebno označenom liku, u kružiće se upisuju brojevi 1-2, 3-4 u kvadratiće, a 5-6 u preostala polja.



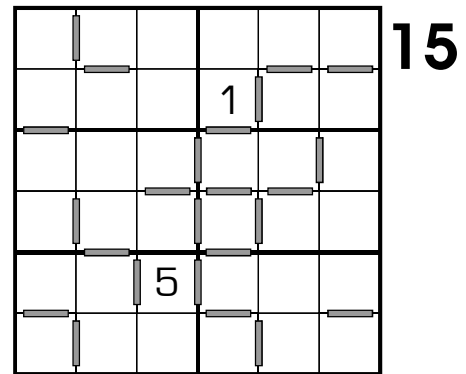
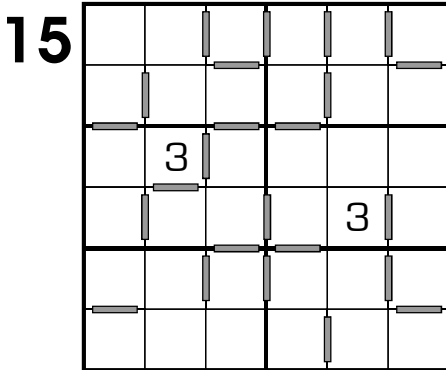
### PAR - NEPAR SUDOKU

Uz uobičajeno razlikovanje brojeva u svakom retku, stupcu i posebno označenom liku,, u osjenčana polja upisuju se parni, a u bijela neparni brojevi.



### SUSJEDNI SUDOKU

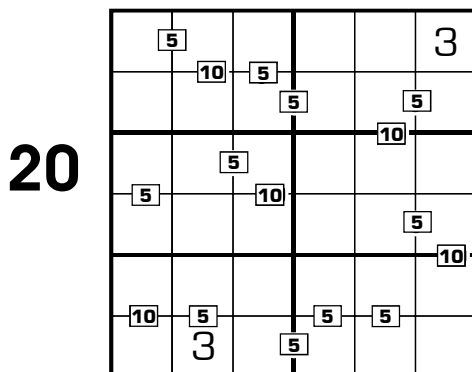
Klasični sudoku kod kojeg je između **SVAKA** dva susjedna broja ucrtana pregrada. Brojevi 1 i 6 se ne smatraju susjednim.



### SUMA 5 i 10

Klasični sudoku kod kojeg svaki upisani 5 ili 10 predstavlja zbroj brojeva u pripadnim poljima.

**Napomena:** ne postoje dva susjedna broja kojima je suma 5 ili 10, a da ona nije naznačena u mreži.



### KROPKI

Uz uobičajeno razlikovanje brojeva u svakom retku, stupcu i posebno označenom liku, moramo obratiti pozornost na kružiće. Bijeli kružić između dva polja pokazuje da su ta dva broja uzasupna. Crni kružić između dva polja pokazuje da je jedan od ta dva broja dvostruko veći od drugog. Izostanak kružića ukazuje na to da

ne postoje susjedne znamenke koje su uzastupne ili dvostruke.

